

تعداد صفحه: ۴	مدت امتحان: ۱۱۰ دقیقه	رشته: علوم تجربی	سوالات امتحان شبه نهایی درس: فیزیک ۱
نام و نام خانوادگی:	تاریخ امتحان: ۱۴۰۳/۰۱/۲۷	ساعت شروع: ۷:۳۰ صبح	پایه دهم دوره دوم متوسطه نظری
مرکز ارزشیابی و تضمین کیفیت نظام آموزش و پرورش http://aee.medu.gov.ir		دانش آموزان دبیرستان‌های دوره دوم متوسطه روزانه سراسر کشور در طرح سه نما سال ۱۴۰۳	

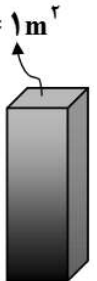
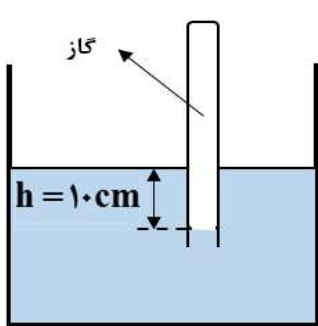
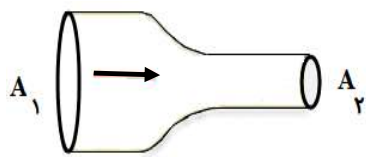
توجه: استفاده از ماشین حساب ساده (دارای چهار عمل اصلی و جذر) مجاز است.

ردیف	سوالات (پاسخ‌نامه دارد)	نمره
۱	الف) نام ساده‌ترین و رایج‌ترین دماسنج‌ها را بنویسید. (دو مورد) ب) انرژی درونی جسم را تعریف کنید.	۰/۵ ۰/۵
۲	با استفاده از مدل‌سازی می‌توان پیچیدگی‌های تحلیل حرکت توپ بسکتبال پرتاب شده را کاهش دهیم. در مدل‌سازی این حرکت، چه فرض‌هایی برای هر یک از موارد زیر در نظر می‌گیریم؟ الف) توپ یک کره کامل نیست و حین حرکت به دور خود می‌چرخد. ب) باد و مقاومت هوا بر حرکت توپ اثر دارد. پ) وزن توپ با تغییر فاصله آن از مرکز زمین تغییر می‌کند.	۰/۷۵
۳	با توجه به شکل‌های زیر، دقت اندازه‌گیری ترازو و خط‌کش را بنویسید.  	۰/۵
۴	گزینه درست را انتخاب کنید و در پاسخ‌نامه بنویسید. الف) کدام کمیت نرده‌ای و فرعی است؟ (۱) طول (۲) سرعت (۳) مساحت ب) یکای نیرو (نیوتون) بر حسب یکاهای اصلی کدام است؟ (۱) kg.m/s^2 (۲) kg/m.s^2 (۳) $\text{kg.m}^2/\text{s}^2$ پ) کدام گزینه جرم یک گیره کاغذ (10^{-5} kg) را به صورت نمادگذاری علمی درست بیان می‌کند؟ (۱) $1 \times 10^{-5} \text{ kg}$ (۲) $1 \times 10^{-4} \text{ kg}$ (۳) $1 \times 10^{-3} \text{ kg}$	۰/۷۵
۵	طول جزیره قشم حدود ۱۲ کیلومتر است. طول این جزیره را به روش تبدیل زنجیره‌ای بر حسب ذرع بنویسید. (هر ذرع، ۱۰۴ سانتی‌متر است)	۰/۷۵
۶	جرم یک سوزن ته‌گرد را چگونه می‌توان با ترازوی آشپزخانه اندازه‌گیری کرد؟	۰/۵
۷	حجم‌های مساوی از سه مایع مخلوط نشدنی A، B و C را در یک استوانه شیشه‌ای ریخته‌ایم. کدام مایع بیشترین جرم را دارد؟ چرا؟ 	۰/۷۵

ادامه سوالات در صفحه دوم

تعداد صفحه: ۴	مدت امتحان: ۱۱۰ دقیقه	رشته: علوم تجربی	سوالات امتحان شبه نهایی درس: فیزیک ۱
نام و نام خانوادگی:	تاریخ امتحان: ۱۴۰۳/۰۱/۲۷	ساعت شروع: ۷:۳۰ صبح	پایه دهم دوره دوم متوسطه نظری
مرکز ارزشیابی و تضمین کیفیت نظام آموزش و پرورش http://aee.medu.gov.ir		دانش آموزان دبیرستان‌های دوره دوم متوسطه روزانه سراسر کشور در طرح سه نما سال ۱۴۰۳	

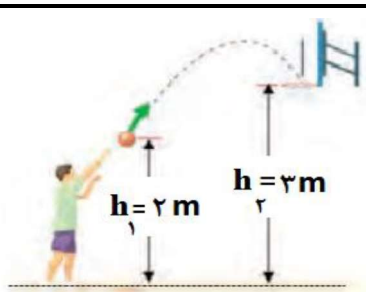
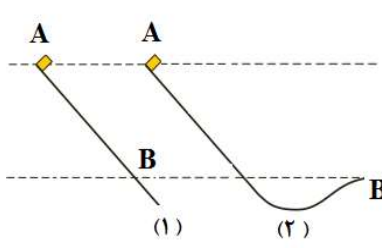
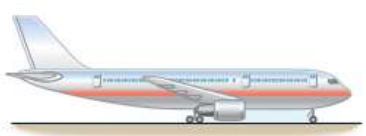
توجه: استفاده از ماشین حساب ساده (دارای چهار عمل اصلی و جذر) مجاز است.

ردیف	سوالات (پاسخ‌نامه دارد)	نمره
۸	برای هر یک از گزاره‌های زیر، واژه مناسب را انتخاب کنید و در پاسخ‌نامه بنویسید. (یک مورد اضافه است) پلازما - مایع - هوا - جامد بلورین - جامد بی‌شکل الف) الماس مثالی از ----- است. ب) کشش سطحی ناشی از هم‌چسبی مولکول‌های سطح ----- است. پ) ماده درون ستارگان و آذرخش از ----- تشکیل شده است. ت) پدیده پخش در -----، سریع‌تر از آب رخ می‌دهد.	۱
۹	یک ستون به سطح مقطع $A = 1 \text{ m}^2$ در نظر بگیرید که از سطح دریای آزاد تا بالاترین بخش جو زمین ادامه می‌یابد. (شکل روبه‌رو). اگر فشار هوا در سطح دریا $P_0 = 10^5 \text{ Pa}$ باشد چند کیلوگرم هوا در این ستون فرضی وجود دارد؟ $(g = 10 \frac{\text{m}}{\text{s}^2})$	۰/۷۵ 
۱۰	به سوالات زیر پاسخ کوتاه دهید. الف) نام یک نوع فشارسنج که معمولاً برای اندازه‌گیری فشار باد لاستیک وسایل نقلیه به کار می‌رود را بنویسید. ب) نیروی بالاسوی خالصی که از طرف شاره به جسم غوطه‌ور درون شاره وارد می‌شود، چه نام دارد؟ پ) کمیت دماسنجی در دماسنج ترموکوپل چیست؟	۰/۷۵
۱۱	در ظرف شکل رو به‌رو، اگر چگالی مایع 3000 kg/m^3 باشد، فشار گاز محبوس درون لوله چند پاسکال است؟ $(g = 10 \frac{\text{m}}{\text{s}^2}, P_0 = 10^5 \text{ Pa})$	۰/۷۵ 
۱۲	شاره‌ای تراکم‌ناپذیر با جریان لایه‌ای در لوله‌ای با دو سطح مقطع متفاوت و در امتداد افق از چپ به راست در حرکت است. اگر $A_1 = 10 \text{ cm}^2$ ، $v_1 = 2 \frac{\text{m}}{\text{s}}$ و $v_2 = 5 \frac{\text{m}}{\text{s}}$ باشد؛ الف) سطح مقطع قسمت باریک (A_2) چند سانتی‌متر مربع است؟ ب) فشار شاره در کدام قسمت این لوله، کم‌تر است؟ چرا؟	۰/۷۵ ۰/۵ 

ادامه سوالات در صفحه سوم

سوالیات امتحان شبه نهایی درس : فیزیک ۱	رشته : علوم تجربی	مدت امتحان: ۱۱۰ دقیقه	تعداد صفحه: ۴
پایه دهم دوره دوم متوسطه نظری	ساعت شروع : ۷:۳۰ صبح	تاریخ امتحان: ۱۴۰۳/۰۱/۲۷	نام و نام خانوادگی:
دانش آموزان دبیرستان‌های دوره دوم متوسطه روزانه سراسر کشور در طرح سه نما سال ۱۴۰۳		مرکز ارزشیابی و تضمین کیفیت نظام آموزش و پرورش http://aee.medu.gov.ir	

توجه: استفاده از ماشین حساب ساده (دارای چهار عمل اصلی و جذر) مجاز است.

ردیف	سوالیات (پاسخ‌نامه دارد)	نمره
۱۳	<p>درستی یا نادرستی هر یک از گزاره‌های زیر را با واژه‌های ((درست)) یا ((نادرست)) در پاسخ‌نامه مشخص کنید.</p> <p>الف) اگر چند لوله مویین شیشه‌ای را وارد آب کنیم هر چه قطر لوله مویین کوچک‌تر باشد ارتفاع آب در آن کم‌تر است.</p> <p>ب) فشار در یک عمق معین از مایع به جهت‌گیری سطحی که فشار به آن وارد می‌شود، بستگی دارد.</p> <p>پ) در خلأ نسبی و شاره‌ای که فشار آن کم‌تر از فشار جو است، فشار پیمانه‌ای منفی است.</p> <p>ت) نیروی دگر چسبی بین مولکول‌های آب و شیشه تمیز از نیروی هم‌چسبی بین مولکول‌های آب بیشتر است.</p> <p>ث) مقدار انرژی جنبشی جسم به جهت حرکت آن وابسته است.</p> <p>ج) انرژی پتانسیل گرانشی یک سامانه می‌تواند منفی باشد.</p>	۱/۵
۱۴	<p>شکل رو به‌رو ورزشکاری را در حال پرتاب توپ بسکتبالی به جرم 600g از ارتفاع ۲ متری به طرف سبد در ارتفاع ۳ متری نشان می‌دهد. کار نیروی وزن توپ هنگام رسیدن به دهانه سبد چند ژول است؟</p> <p>$(g = 10 \frac{\text{m}}{\text{s}^2})$</p> 	۱
۱۵	<p>شکل زیر، دو مسیر متفاوت (۱) و (۲) برای حرکت جسمی نشان می‌دهد. در هر دو مسیر، جسم از حالت سکون از نقطه A روی مسیر بدون اصطکاک و رو به پایین حرکت می‌کند. با ذکر دلیل، انرژی جنبشی جسم را در نقطه B برای هر دو مسیر مقایسه کنید.</p> 	۱
۱۶	<p>برای آن که نیروی خالصی بتواند تندی جسم را از v به $2v$ برساند مقدار 60J کار روی آن انجام دهد. اگر قرار باشد، تندی جسم از v به $4v$ برسد، کاری که روی این جسم باید انجام شود چند ژول است؟</p>	۱
۱۷	<p>هر یک از دو موتور جت یک هواپیمای مسافربری، پیشرانهای (نیروی جلوبر هواپیما) برابر $2 \times 10^5\text{N}$ ایجاد می‌کند. اگر هواپیما در هر ۲۰ ثانیه، 5km در امتداد این نیرو حرکت کند، توان متوسط هر یک از موتورهای هواپیما چند مگاوات است؟</p> 	۱/۲۵
۱۸	<p>مساحت یک ورقه مسی 200cm^2 است. اگر دمای این ورقه 40 کلوین افزایش یابد، مساحت آن چند سانتی‌متر مربع افزایش خواهد یافت؟ (ضریب انبساط طولی مس: $17 \times 10^{-6} \text{ 1/K}$)</p>	۰/۷۵

ادامه سوالات در صفحه چهارم

باسمه تعالی

سوالیات امتحان شبه نهایی درس : فیزیک ۱	رشته : علوم تجربی	مدت امتحان: ۱۱۰ دقیقه	تعداد صفحه: ۴
پایه دهم دوره دوم متوسطه نظری	ساعت شروع : ۷:۳۰ صبح	تاریخ امتحان: ۱۴۰۳/۰۱/۲۷	نام و نام خانوادگی:
دانش آموزان دبیرستان های دوره دوم متوسطه روزانه سراسر کشور در طرح سه نما سال ۱۴۰۳		مرکز ارزشیابی و تضمین کیفیت نظام آموزش و پرورش http://aee.medu.gov.ir	

توجه: استفاده از ماشین حساب ساده (دارای چهار عمل اصلی و جذر) مجاز است.

ردیف	سوالیات (پاسخ نامه دارد)	نمره
۱۹	در چه دمایی بر حسب درجه سلسیوس، دماسنج های سلسیوس و فارنهایت عدد یکسانی را نشان می دهند؟	۰/۷۵
۲۰	الف) چرا در دماسنج نواری دوفلزه با کاهش یا افزایش دما، نوار دوفلزه خم می شود؟ ب) دمای مقداری آب را از 4°C به 0°C کاهش می دهیم. توضیح دهید تغییر چگالی آب در این بازه دمایی چگونه است؟ پ) در یک کلاس درس؛ صندلی، دانش آموز، تخته و شیشه پنجره و وجود دارد. در یک روز زمستانی دمای کدام یک از آنها با دمای هوای اتاق تقریباً برابر است؟ (شیشه پنجره در تماس با هوای سرد بیرون است). ت) دو گوی هم اندازه با جرم های یکسان از جنس های آلومینیوم و برنج را به وسیله ریسمان هایی در داخل ظرف آب در حال جوشیدن قرار می دهیم و پس از مدتی گوی ها را بیرون آورده و روی یک ورقه پارافین قرار می دهیم. گوی آلومینیومی پارافین بیشتری ذوب می کند. علت آن چیست؟	۰/۵ ۰/۵ ۰/۵ ۰/۵
۲۱	جسمی به جرم 2 kg و دمای 5°C را درون ظرف عایقی حاوی 4 kg آب 20°C می اندازیم. پس از چند دقیقه دمای تعادل را اندازه می گیریم. دمای تعادل 18°C می شود. گرمای ویژه جسم را حساب کنید. از تبادل گرما بین ظرف و سایر اجسام چشم پوشی شود. (گرمای ویژه آب: $\frac{4200\text{ J}}{\text{kg}\cdot^{\circ}\text{C}}$)	۱/۲۵
	پیروز و سربلند باشید	۲۰

باسمه تعالی

تعداد صفحه: ۴	مدت امتحان: ۱۱۰ دقیقه	رشته: علوم تجربی	سوالات امتحان شبه نهایی درس: فیزیک ۱
نام و نام خانوادگی:	تاریخ امتحان: ۱۴۰۳/۰۱/۲۷	ساعت شروع: ۷:۳۰ صبح	پایه دهم دوره دوم متوسطه نظری
مرکز ارزشیابی و تضمین کیفیت نظام آموزش و پرورش http://aee.medu.gov.ir		دانش آموزان دبیرستان های دوره دوم متوسطه روزانه سراسر کشور در طرح سه نما سال ۱۴۰۳	

توجه: استفاده از ماشین حساب ساده (دارای چهار عمل اصلی و جذر) مجاز است.

ردیف	سوالات (پاسخ نامه دارد)	نمره
------	-------------------------	------